

Ćwiczenie 1


















Wykreśl wyrazy: marcowa, pogoda i odczytaj nazwy elementów pogody.

zachmurzeniemarcowaopadypogodamarcowa
temperaturapogodakierunekpogodawiatru, siłamarcowawiatrupogoda.



Ćwiczenie 2

Na podstawie kalendarza Ani - opowiedz, jaka była pogoda w sobotę?
Niedziela była najcieplejszym dniem w tygodniu – uzupełnij tabelkę.

DZIEŃ TYGODNIA	TEMPERATURA	ZACHMURZENIE	OPADY
PONIEDZIAŁEK	 1°C		
WTOREK	 3°C		
ŚRODA	 2°C PONIŻEJ ZERA		
CZWARTEK	 3°C PONIŻEJ ZERA		
PIĄTEK	 2°C		
SOBOTA	 4°C		
NIEDZIELA	 0°C		

Karta pracy nr 2

Klasa 2 - marzec - blok 3 - dzień 4

Ćwiczenie 3

Przeczytaj pytanie. Zaznacz x poprawne odpowiedzi.



Pytanie /dzień tygodnia	poniedziałek	wtorek	środa	czwartek	piątek	sobota	niedziela
W którym dniu było najzimniej?							
- Kiedy padał śnieg z deszczem?							
- Jaka temperatura była w środę i czwartek?							
-W którym dniu była pierwsza wiosenna burza?							